


# ПОДОРОЖ ДО МІСТА «ВЕЛИЧИНИ»

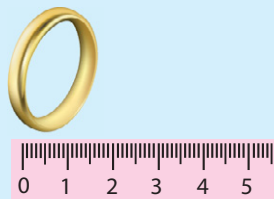


Виконай усно

Довжину тканини вимірюють у метрах



Ширину обручки вимірюють у міліметрах



1 ➔ Порівняй.

35 см і 4 дм

9 см і 88 мм

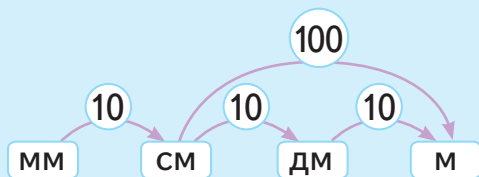
7 дм і 76 см

1 см 3 мм і 1 см 8 мм

3 см 3 мм і 2 см 9 мм

4 см і 3 см 9 мм

Одиниці довжини



10 мм = 1 см    10 дм = 1 м

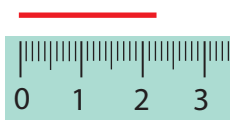
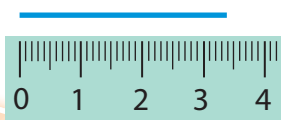
10 см = 1 дм    100 см = 1 м

2 ➔ Довжина лінійки 10 см.  
Яка довжина цієї лінійки в міліметрах?

3 ➔ Довжина руки Мрійниці 60 см. Назви цю довжину в дециметрах.

4 ➔ Висота ялинки 5 м, а смереки — у 4 рази більше.  
Яка висота смереки? На скільки метрів смерека вища за ялинку?

5 ➔ Назви довжину кожного відрізка.





## Виконай усно



1 кг


### Одиниці маси

$$100 \text{ кг} = 1 \text{ ц}$$



1 ц

- 1 Якими приладами вимірюють масу?  
Які величини вимірюють іншими приладами?

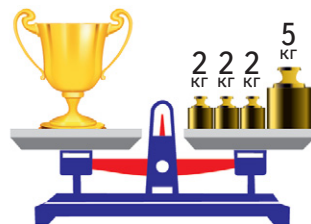



- 2 У яких одиницях вимірюють масу новонародженого немовляти?

- 3 Порівняй з 1 кг масу олівця та масу кавуна.

- 4 Маса книжки — 3 кг. Яка маса 8 таких книжок?

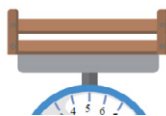
- 5 Назви масу кожного об'єкта.



- 6 Прочитай у порядку зростання.

1 ц    46 кг    34 кг    25 кг    3 ц    7 кг    88 кг

- 7 Знайди масу помідорів без ящика. Порівняй масу помідорів і ящика.



2 кг



8 кг



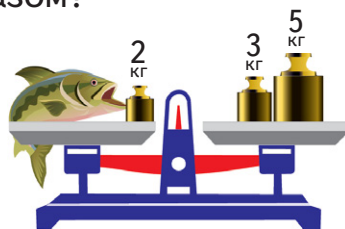
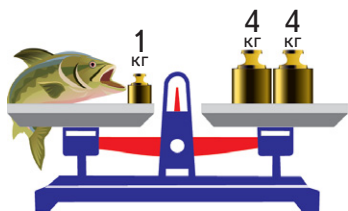
## Виконай усно

1 На яких терезах може зважитися Мрійниця?



2 Дві цеглини важать стільки ж, скільки 16 плиток. Скільки плиток зрівноважують одну цеглину?

3 Яка маса кожної рибини? А разом?



4 Знайди і виправ помилки.

$$4 \cdot 9 + 4 = 40$$

$$48 - 32 : 4 = 8$$


$$2 \cdot 8 - 5 = 12$$

$$5 \cdot 7 + 25 = 50$$

$$62 - 7 \cdot 7 = 13$$

$$12 : 4 - 0 = 3$$

5 Установи масу трьох кавунів і двох гарбузів разом.



6 На овочевий склад завезли чотири рази по 9 ц моркви. За зиму продали 33 ц моркви. Скільки центнерів моркви залишилося на складі?

7 ПЗ Порівняй масу двох різних книжок, узявши їх у різні руки. Чи завжди більший за розмірами предмет має більшу масу?




## Виконай усно

1 Склади нерівності за малюнками.



7 л



15 л



5 л



2 л



1 л



1 л

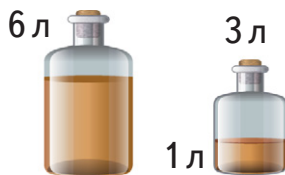
2 Як ти думаєш, якою може бути ємність бака автомобіля?

5 л

50 л

100 л

3 Скільки літрів залишиться в першому бутлі після переливання рідини у другий?



4 На фарбування майданчика було витрачено 12 л фарби трьох кольорів: червоного, синього і жовтого. Червоної фарби витратили 4 л, а жовтої — 5 л. Скільки літрів синьої фарби витратили?

5 Виконай дії.  $1 \text{ л} \cdot 7$        $3 \text{ л} \cdot 5$   
 $(23 \text{ л} - 9 \text{ л}) + 6 \text{ л}$        $11 \text{ л} + (76 \text{ л} - 59 \text{ л})$

6 Є бак з водою на 100 л. Щодня з нього беруть по 9 л води. Скільки води залишиться в баку через тиждень?

7 ПЗ Який із двох орнаментів можна описати символами АВАВ, а який ААВВА?  
Створи свій орнамент виду АВВАВВА.

