



# Цифри і числа. Дії та їх компоненти. Порівняння чисел

1 Випиши найменше і найбільше пропущені числа у кожному колі.

43  
13 83 53  
93

10  
60 20 70  
40

15  
35 65 75  
95

24  
64 84 44  
94

2 З'єднай стрілочкою кожен номерок з його місцем.



5

6

9

12

15

16

19

3 Виконай дії.

$15 - 3 = \square \square$

$28 - 2 = \square \square$

$37 - 3 = \square \square$

$14 + 4 = \square \square$

$26 + 3 = \square \square$

$32 + 7 = \square \square$

4 Заповни таблицю за зразком.

Числа	Лівіше	Правіше	Менше	Більше
57, 22	22	57	22	57
54, 45				
67, 56				
72, 27				
82, 28				



# Вирази. Рівності. Нерівності

**1** Склади за схемами вирази й обчисли їх значення.

71 +

10			
2			
3			
4			
5			
6			
7			
8			
1			
0			

49 -

1			
2			
3			
4			
5			
6			
7			
8			
9			
10			

**2** Порівняй. Впиши знаки  $>$ ,  $<$  або  $=$ .

12  21

23   $6 - 3$

$4 + 5$    $5 + 3$

13  30

22   $24 - 2$

$10 - 6$    $10 - 5$

**3** Склади за кожним малюнком правильні рівності та нерівності.



\_\_\_\_\_

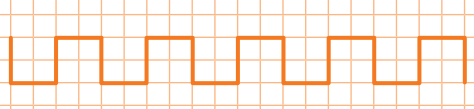
**4** Зафарбуй трикутники зеленим кольором.






# Геометричні фігури

1 Скільки ланок має кожна ламана?



2 Намалюй ламану, яка має більше ланок, ніж чорна, але менше, ніж оранжева.

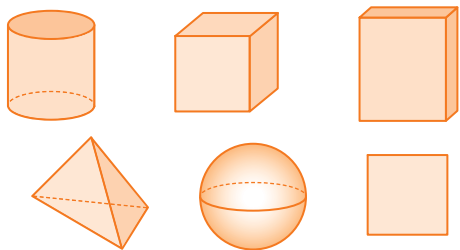


3 Виконай дії.

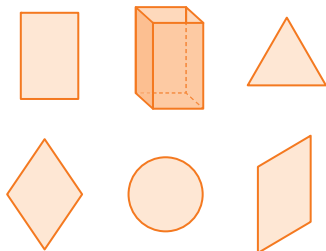
$0 + 5 = \square$      $9 - 1 = \square$      $18 - 5 = \square\square$      $16 - 4 = \square\square$   
 $2 + 8 = \square\square$      $3 + 7 = \square\square$      $13 - 3 = \square\square$

4 Закресли зайву фігуру.

Об'ємні



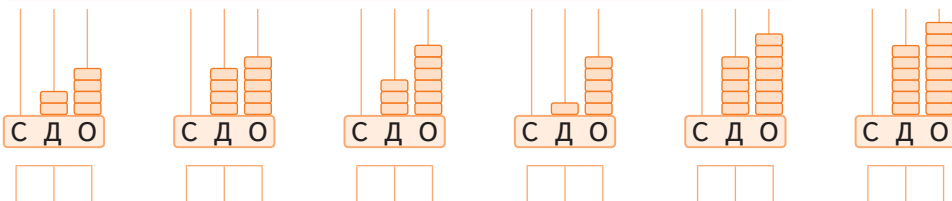
Плоскі






# Двоцифрові числа. Розряди чисел

**1** Запиши числа, зашифровані на малюнках.



**2** Зафарбуй зеленим кольором фігури, накреслені над прямокутником, а синім кольором — фігури під трикутником.



**3** Виконай дії. Розташуй значення виразів у порядку зростання.

$1 + 8 = \square$

$3 + 5 = \square$

$0 + 70 = \square\square$

$90 - 88 = \square$

$3 - 2 = \square$

$0 + 7 = \square$

$10 + 80 = \square\square$

$30 + 50 = \square\square$

$0 + 20 = \square\square$



**4** Запиши кожне число у вигляді суми розрядних доданків.

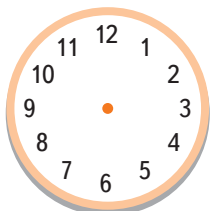
*Двадцять три, сорок сім, п'ятдесят, тридцять вісім, дев'яносто.*



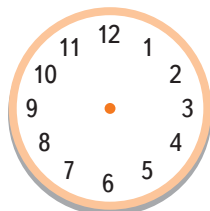


## Час. Вимірювання часу

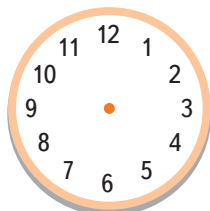
1 Намалюй стрілки так, щоб годинники показували зазначений час.



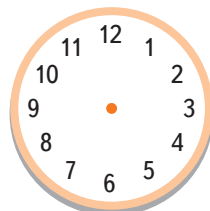
12:00



15:00



05:00



11:00

2 Визнач за календарем і запиши, на скільки днів більше у липні, ніж у лютому.

Л	Ю	Т	И	Й	Л	И	П	Е	Н	Ь
---	---	---	---	---	---	---	---	---	---	---

3 Порівняй. Запиши знак  $>$ ,  $<$  або  $=$ .

18  80

6 - 12  60 - 20

19  91

19  9

14 + 12  15 + 11

21  12

4 Познач  хибні твердження.

У добі 24 години.

Рік завжди має 12 місяців.

Тиждень завжди має 7 днів.

Зима має більше місяців, ніж літо.

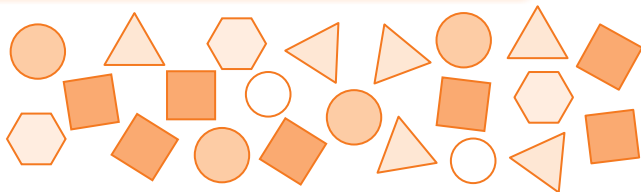
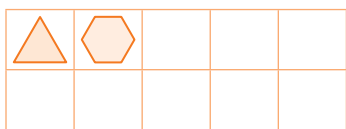
Місяць завжди має 30 днів.

Жовтень — осінній місяць.




## Робота з даними

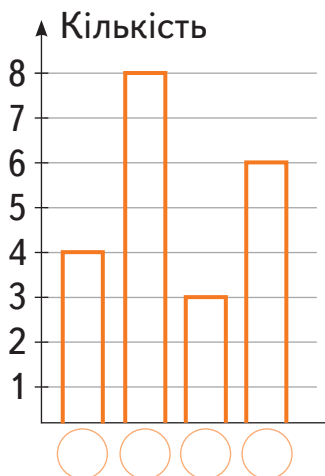
**1** Полічи геометричні фігури і заповни таблицю.



**2** Перший зайчик з'їв одну морквину, другий — дві, а третій — три. Скільки морквин залишилося четвертому зайчику? А п'ятому?



**3** Учителька провела в класі опитування про дні народження учнів і записала дані у таблицю. Якій порі року відповідає кожен стовпчик? Зафарбуй стовпчики відповідним кольором. Проведи і ти таке дослідження.



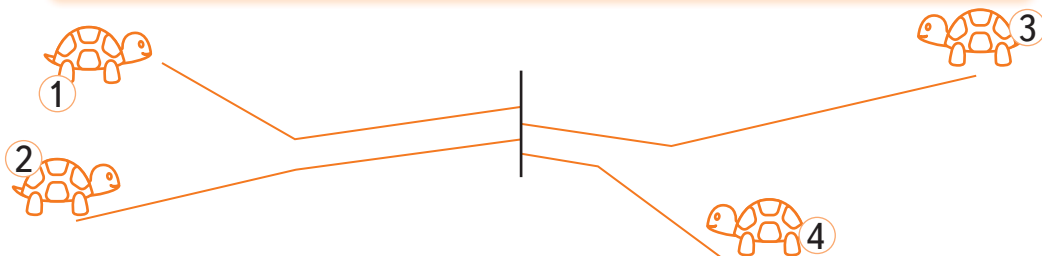
Пора року	Кількість
Осінь	4
Зима	3
Весна	8
Літо	6

Синій — зима  
 Зелений — весна  
 Червоний — літо  
 Жовтий — осінь



## Довжина. Вимірювання довжини. Взаємозв'язок між додаванням і відніманням

- 1** Установи, шлях якої черепахи найдовший, а якої — найкоротший. На скільки сантиметрів шлях першої черепахи довший за шлях четвертої?



- 2** Склади задачі за короткими записами і розв'яжи їх.

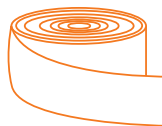


Було — 15 м  
Відрізали — 3 м  
Залишилося — ?

Розв'язання



Відповідь.



Мали — 10 м  
Придбали — 20 м  
Стало — ?

Розв'язання



Відповідь.

- 3** Знайди різниці.

Зменшуване	14	16	10	26	16	28	19	24	11	36
Від'ємник	2	3	4	5	6	7	8	10	11	30
Різниця										

# Грошові розрахунки

1 Яку решту отримає кожен?



2 Обчисли значення виразів.

$3 + 3 = \square$

$5 + 4 = \square$

$13 - 2 = \square \square$

$26 - 6 = \square \square$

$7 + 2 = \square$

$1 + 10 = \square \square$

$17 - 4 = \square \square$

$29 - 7 = \square \square$

$19 - 5 = \square \square$

3 За який товар можна розплатитися кожною купюрою? З'єднай стрілочкою.



4 Порівняй. Запиши знак  $>$ ,  $<$  або  $=$ .

$17 \square 71$

$15 - 12 \square 30 - 20$

$18 \square 9 + 12$

$19 \square 91$

$16 + 12 \square 14 + 13$

$12 \square 19 - 8$